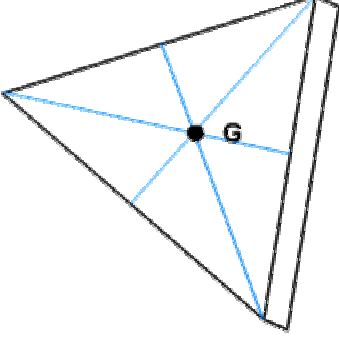
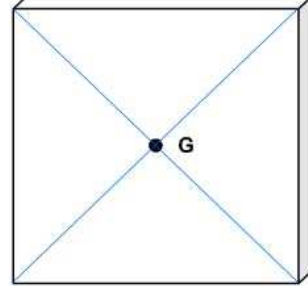


## \*\*\* واجب منزلي 02 \*\*\*

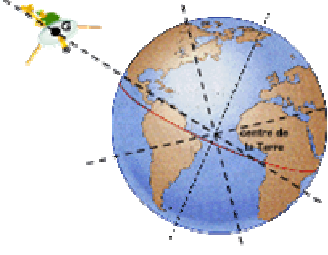
في كل حالة مثل الثقل بشعاع. مع أخذ:  $g = 10 \text{ N/kg}$



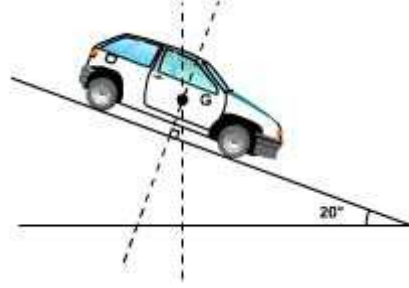
الحالة الثانية:  
ثقل الصفيحة: 0.8N



الحالة الأولى:  
ثقل الصفيحة: 12N




الحالة الرابعة:  
ثقل القمر في حالة الدوران :  
200N



الحالة الثالثة:  
ثقل السيارة: 9600N

الحالة السادسة:  
مميزات الثقل:  
السلم  $1 \text{ cm} \rightarrow 2\text{N}$   
كتلة الكرة: .....



الحالة الخامسة:  
كتلة القرد :  
3.6kg

